

Ж

НИИ МУНИЦИПАЛЬНОГО ЭТАПА
ОЛИМПИАДЫ ШКОЛЬНИКОВ
2018-2019 УЧЕБНОГО ГОДА
(ма и декоративно-прикладное творчество»)

7 КЛАСС

пишите свой код/шифр
7-7-5

ий) участница(к) Олимпиады!

теоретического тура Вам предстоит выполнить
ше организовать следующим образом:
те задание и входящие в него вопросы;

ольный ответ:

кий вопрос, обдумайте и сформулируйте конкретный
ос;

редложенную ситуацию, обдумайте порядок и
редложенной ситуации и выпишите ответы в схему в
зы определили, при этом ответ должен быть кратким,
ашико;

связанное с заполнением таблицы, не старайтесь
сывайте только те сведения или данные, которые
фах;

до завершения выполнения заданий;
нных заданий еще раз удостоверьтесь в правильности
й;

анной предметной секции считается выполненным,
жюри.

заданий – 90 минут.

ное выполнение - 1 балл, за 21 задание -10 баллов

желаем вам успеха!

Общий абраный балл	Председатель предметного жюри	
--------------------------	-------------------------------------	--

ФИО Жюри	7 класс девочки, код ученика: 7-7-5																					ИТОГО	подпись жюри
	1	2	3	4	5	6	7	8	9	10	11	12	13	14	15	16	17	18	19	20	21		
Ковсан Т.В.	1	1	0	1	1	1	0	0	0	0	1	1	1	0	1	1	0	1	1	1	9	22	Жел-
Чабанова Н.В.	1	1	0	1	1	1	0	0	0	0	1	1	1	0	1	1	0	1	1	1	9	22	Чаб-
Цыганкова	1	1	0	1	1	1	0	0	0	0	1	1	1	0	1	1	0	1	1	1	9	22	Цыг-

**ТЕСТОВЫЕ ЗАДАНИЯ МУНИЦИПАЛЬНОГО ЭТАПА
ВСЕРОССИЙСКОЙ ОЛИМПИАДЫ ШКОЛЬНИКОВ
ПО ТЕХНОЛОГИИ 2018-2019 УЧЕБНОГО ГОДА
(Номинация «Культура дома и декоративно-прикладное творчество»)**

7 КЛАСС

Впишите свой код/шифр			
9	-5	-7	-5

Уважаемая(ый) участница(к) Олимпиады!

При выполнении заданий теоретического тура Вам предстоит выполнить определенную работу, которую лучше организовать следующим образом:

- не спеша, внимательно прочитайте задание и входящие в него вопросы;
- определите, наиболее верный и полный ответ;
- если вы отвечаете на теоретический вопрос, обдумайте и сформулируйте конкретный ответ только на поставленный вопрос;
- если вы отвечаете на предложенную ситуацию, обдумайте порядок и последовательность действий по предложенной ситуации и впишите ответы в схему в той последовательности, которую вы определили, при этом ответ должен быть кратким, но содержать необходимую информацию;
- если вы отвечаете на задание, связанное с заполнением таблицы, не старайтесь детализировать информацию, вписывайте только те сведения или данные, которые указаны в вопросе или верхних графах;
- продолжайте таким образом работу до завершения выполнения заданий;
- после выполнения всех предложенных заданий еще раз удостоверьтесь в правильности выбранных вами ответов и решений;

Задание теоретического тура по данной предметной секции считается выполненным, если Вы вовремя сдаете его членам жюри.

Время выполнения тестовых заданий – 90 минут.

С 1 по 20 задание за правильное выполнение - 1 балл, за 21 задание -10 баллов

Желаем вам успеха!

Максимальный балл	30	Общий набранный балл		Председатель предметного жюри	
-------------------	-----------	----------------------	--	-------------------------------	--

Вы в гостях. Вы садитесь за праздничный стол, берете салфетку и:

Отметьте знаком «+» подходящий вариант ответа

- а) вешаете ее на спинку стула;
- б) кладете на колени;
- в) заправляете за воротник;
- г) кладете рядом с тарелкой;
- д) убираете в карман.

2. Продукты на фотографиях богаты этим микроэлементом. Он играет важную роль в питании человека. Какую?

Отметьте знаком «+» подходящий вариант ответа

- а) необходим для формирования костной ткани;
- б) нужен для нормального функционирования нервной системы;
- в) необходим для нормальной работы почек;
- г) усиливает выделение жидкости из организма;
- д) снижает артериальное давление.



3. В Древности племенами майя и ацтеков это настолько высоко ценилось, что они применяли это не только для того чтобы приготовить свой любимый напиток "ксокоатль", но и как мелкую разменную монету. Что это?

Отметьте знаком «+» подходящий вариант ответа

- а) чай;
- б) какао-бобы;
- в) кофе;
- г) зерна маиса.

4. Процесс заготовки продуктов с использованием уксусной кислоты называется:

Отметьте знаком «+» подходящий вариант ответа

- а) солением;
- б) квашением;
- в) копчением;
- г) маринованием.

5. По способу приготовления тесто может быть:



Отметьте знаком «+» все подходящие варианты ответа

- а) дрожжевым;
- б) скорым;
- в) песочным;
- г) суточным;
- д) заварным.



6. Ткань обладает способностью изменять свои линейные размеры при стирке и влажно-тепловой обработке. Как называют это свойство?

Усадка

Нити, проходящие поперек основы ткани, называются:
 Отметьте знаком «+» все подходящие варианты ответа




- а)  уток;
- б) долевая нить;
- в)  продольная нить;
- г) челночная нить;
- д) жизненная нить.

8. Винт в шпульном колпачке нужен для:
 Отметьте знаком «+» подходящий вариант ответа

- а) соединения челнока в единое целое;
- б)  усиления прочности;
- в) шпульного колпачка;
- г)  регулировки натяжения нижней нити;
- д) регулировки натяжения верхней нити.



9. Швейная машина плохо продвигает ткань, если:
 Отметьте знаком «+» все подходящие варианты ответа

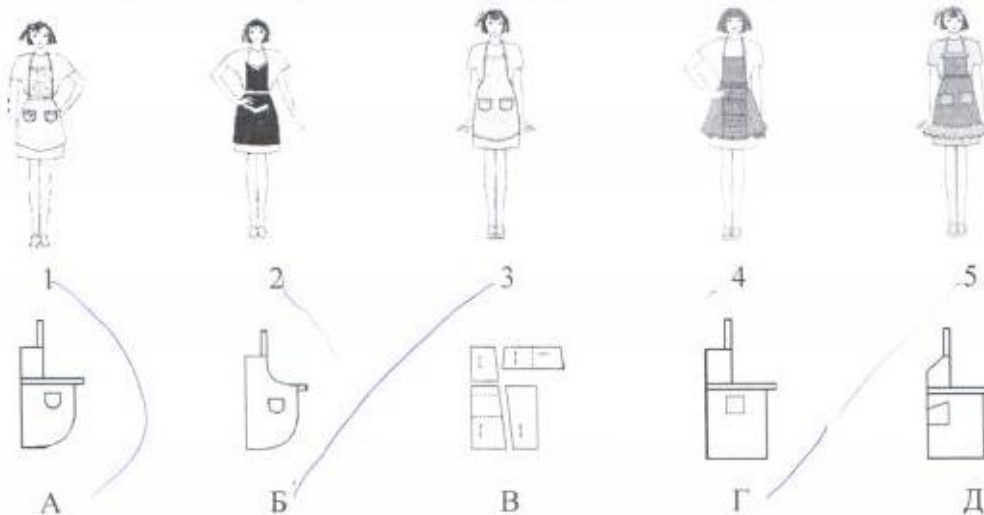
- а)  слишком слабый прижим ткани;
- б)  слишком сильный прижим ткани;
- в)  регулятор длины стежка установлен в нулевое положение;
- г) отключен механизм двигателя ткани;

10. Определите по рисунку вид ручного шва:

петельный



11. Установите соответствие между рисунками фартуков и их выкройками



1 - А; 2 - Б; 3 - Б; 4 - Б; 5 - Д

Прибавка - это:

- а) величина, необходимая при обработке изделия машинными швами, выраженная в сантиметрах и учитываемая при раскрое;
- б) величина, прибавляемая к размеру мерки, необходимая для свободного облегания одежды.

Отметьте знаком «+» подходящий вариант ответа

13. В процессе моделирования вытачки на юбке не могут быть преобразованы в:

Отметьте знаком «+» подходящий вариант ответа

- а) швы;
- б) рельефы;
- в) жабо;
- г) складки;

14. Из предложенных терминов выберите термины, соответствующие графическому изображению:

Отметьте знаком «+» все подходящие варианты ответа

- а) стачать;
- б) настрочить;
- в) застрочить;
- г) обтачать;
- д) притачать.



15. Мерку Сб снимают:

Отметьте знаком «+» подходящий вариант ответа

- а) для определения длины изделия;
- б) для определения ширины изделия;
- в) для определения длины пояса;

16. Вставьте пропущенное слово.

В конце XIX-го века предмет одежды, похожий на футболку, пользовался популярностью у шахтеров, так как служил хорошей защитой от жары и пыли. В 1898 году появилась майка в том виде, в котором мы ее сейчас знаем, без пуговиц. Ее стали производить в США для морских пехотинцев. Как самостоятельный элемент одежды майку начали воспринимать после Второй Мировой войны. Она вошла в состав обязательной униформы американских солдат, и, несмотря на то, что считалась нижним бельем, ее стали носить как верхнюю одежду. В ней было особенно удобно выполнять тяжелую работу в условиях жаркой погоды. В 1951 году в фильме «Трамвай «Желание» Марлон Брандо появился в белой майке, и с этого момента она стала восприниматься не только как обычный элемент гардероба, но и как полноценная модная одежда. Для изготовления майки применяют легкое трикотажное полотно.

17. При работе с утюгом нельзя:

Отметьте знаком «+» все подходящие варианты ответа

- а) ставить утюг на огнеупорную подставку;
- б) утюжить влажную ткань;
- в) выключать утюг, дергая за шнур;
- г) включать утюг мокрыми руками;
- д) заливать воду из-под крана в ёмкость для воды утюга, включенного в сеть.

18. В настоящее время проблема парникового эффекта является одним из наиболее глобальных экологических вопросов, стоящих перед человечеством. Главной причиной парникового эффекта является попадание в атмосферу промышленных газов. Парниковый эффект создают углекислый газ, оксид азота, метан. Все эти газы - результат деятельности человека. Опишите, что происходит в результате парникового эффекта.

Газы остаются в нагретом состоянии в воздухе, накапливаются. Атмосфера нагревается.

19. «Кто яблоко в день съедает, тот у ... не бывает».

Профессия, о которой упоминается в поговорке, относится к сфере деятельности:

Отметьте знаком «+» подходящий вариант ответа





- а) человек – человек;
 б) человек – техника;
 в) человек - природа;

20. Что означает термин «семейный бюджет»:

- а) совокупный доход всех членов семьи;
 б) это план доходов и расходов семьи на определенный временной период;
 в) постоянные расходы семьи на коммунальные услуги.

21. Творческое задание.

Сделайте эскизы пальто в соответствии с предложенными силуэтами.

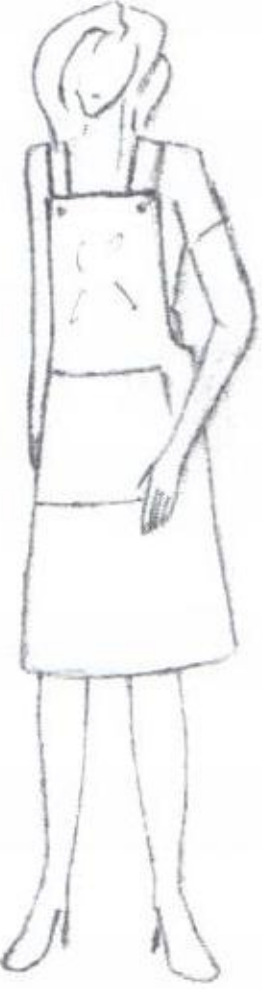
эскиз				
силуэт	 прямой	 полуприлегающий	 приталенный	 Расширенный к низу (трапеция)

Моделирование стильного фартука для презентаций.

К швейным изделиям относятся не только предметы одежды, такие как юбки, блузки, брюки, платья и т.д, но и изделия которые используются в быту в повседневной жизни

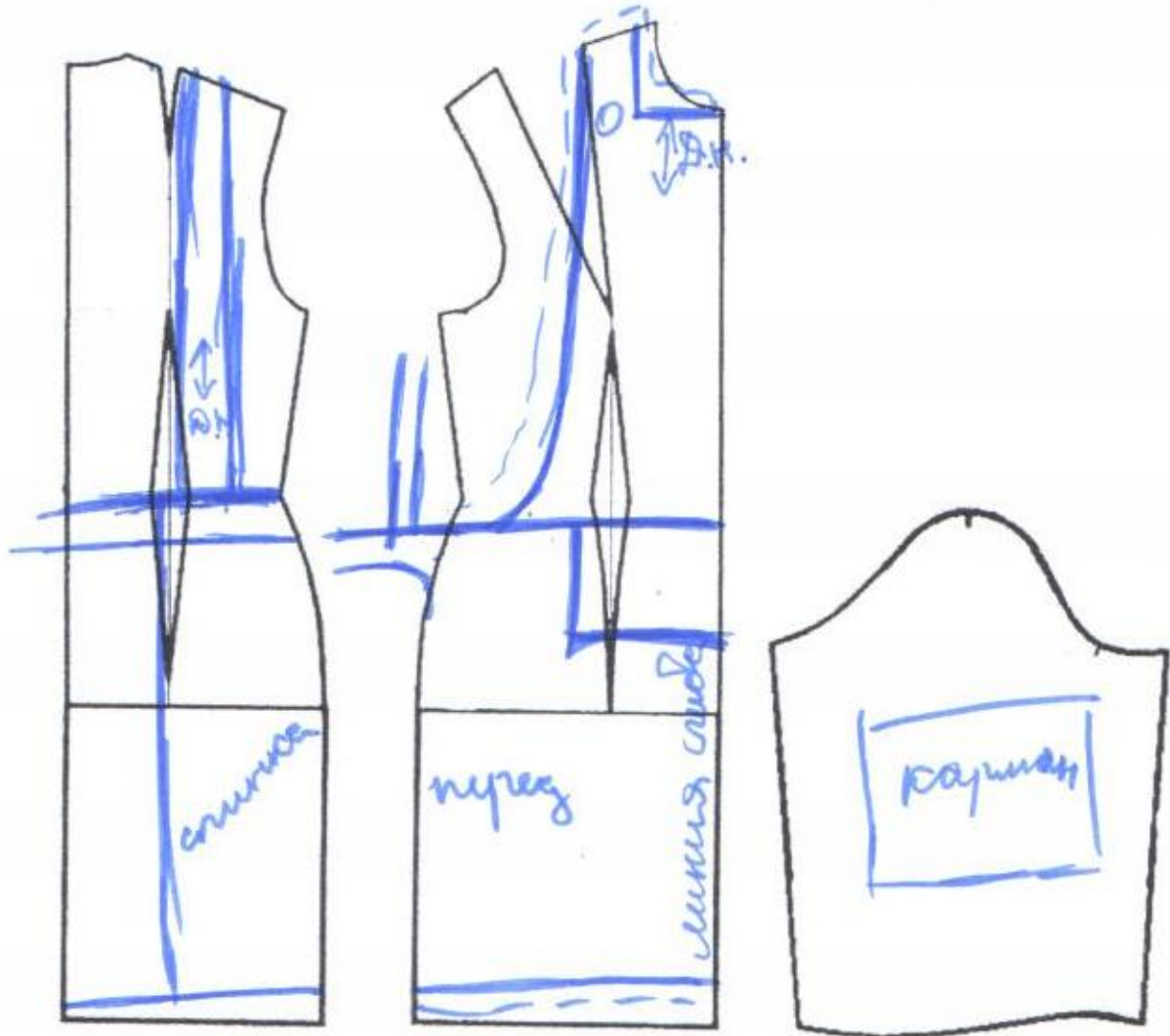
Задание.

Изготовить выкройку стильного фартука покроем которого чаще всего используется в телевизионных передачах, связанных с кулинарией

Эскиз модели	Описание модели
	<p>Стильный цельнокроеный фартук для презентаций. Длиной до середины колена. Шириной до половины спинки на лямке по горловине, которая регулируется пуговицами. Линия талии немного занижена и как продолжение её два притачных пояса, завязывающихся по необходимому размеру. Спереди можно спроектировать карман или два по усмотрению самого модельера.</p>

2-5-7-5

Контроль практического задания
«Моделирование стильного фартука для презентаций»
Нанесение линий и необходимых надписей для моделирования
чертежа фартука.



Результат моделирования фартука.



Карпова
0-5-7-5

Карта операционного контроля к практическому заданию
по моделированию фартука для 7 класса

№	Критерии оценивания	Максимальное количество баллов	Количество баллов
<i>Нанесение контура фартука и надписей на чертеже базовой основы платья</i>			
1	Уточнение длины изделия в соответствии с эскизом	1	1
2	Оформление контура фартука с учетом переда и спинки	4	4
3	Оформление фартука карманом или карманами	2	2
4	Работа с лямками, уточнение их длины	1	1
5	Работа с поясами	1	0
<i>Подготовка выкройки к раскрою</i>			
7	Выполнение полного комплекта деталей, соответствие их намеченным линиям, модели, масштабу	1	0
8	Правильное моделирование (оформление) основной детали фартука; кармана; лямок; пояса	2 2 1	1 2 0
9	Наличие названия деталей	1	0
10	Количество деталей	1	0
11	Наличие контрольных линий: долевые нити на деталях, сгибы деталей, линии середины, наличие надсечек	1	1
12	Припуски на обработку каждого среза	1	1
13	Аккуратность выполнения моделирования	1	0
	Итого:	20	13

М.ф. Мухомов
М.ф. - /Тарасов/
М.ф. /Ковалева/

Карпова

0-5-7-5

«Культура дома и декоративно-прикладное творчество»

Практическая работа по технологии изготовления швейных изделий 7 класс

	Критерии оценки	Макс. балл	Баллы по факту
1.	Правильная организация рабочего места, наличие формы	1	1
2.	Соблюдение правил раскроя	1	1
3.	Качество соединения деталей	4	0
4.	Качество выполнения петельного шва	4	-
5.	Декоративное украшение изделия	4	4
6.	Оригинальное использование декоративных элементов	5	5
7.	Соблюдение техники безопасности	1	1
	итого	20	12

Примечание:

Время на моделирование и практическое задание можно объединить, так как в первой и во второй части ведется работа над одним изделием.

Форма выкроек может быть отличной от рекомендуемой.

Мад - / Маданович
Робан Эл